



Dans quelle commune se trouve ce monument ?

Entoure la bonne réponse :

Ce monument a été construit par les Allemands. Ce monument a été construit par les Américains. Ce monument a été construit par les Lorrains pour remercier les Américains d'avoir aidé la France pendant la guerre.

Pour comprendre le site de Flirey



Au début de 1915, les Français veulent chasser les Allemands du Saillant de Saint-Mihiel. En effet, depuis le 24 septembre 1914 les Allemands sont installés à Saint-Mihiel. Les Français ne peuvent plus se servir de routes importantes et de la voie ferrée dans la vallée de la Meuse.

L'attaque française a lieu dans le secteur d'Apremont-la-Forêt, Flirey et Régnéville du 3 au 8 avril 1915. Certaines tranchées sont prises et reprises plusieurs fois dans la même journée. Finalement, les Français ont un peu avancé mais sans libérer le Saillant.

C'est en 1918, du 12 au 16 septembre que les troupes franco-américaines parviennent à chasser les Allemands.

Sur la carte, entoure les lieux dont on parle dans le texte.

La guerre de tranchées

Entoure les bonnes réponses :



Où peut-on voir ces vitraux ?

Quel vestige de la guerre trouve-t-on à l'intérieur ?

Les soldats ont creusé des tranchées :

pour se protéger du froid, pour se protéger des obus et des balles, pour faire du sport, pour pouvoir se défendre.

Ecris le nom des matériaux utilisés pour fabriquer les tranchées :

Qui utilisait le plus le béton, les Français ou les Allemands ?



A ton avis, pourquoi y a-t-il une cloche dans cette tranchée ?



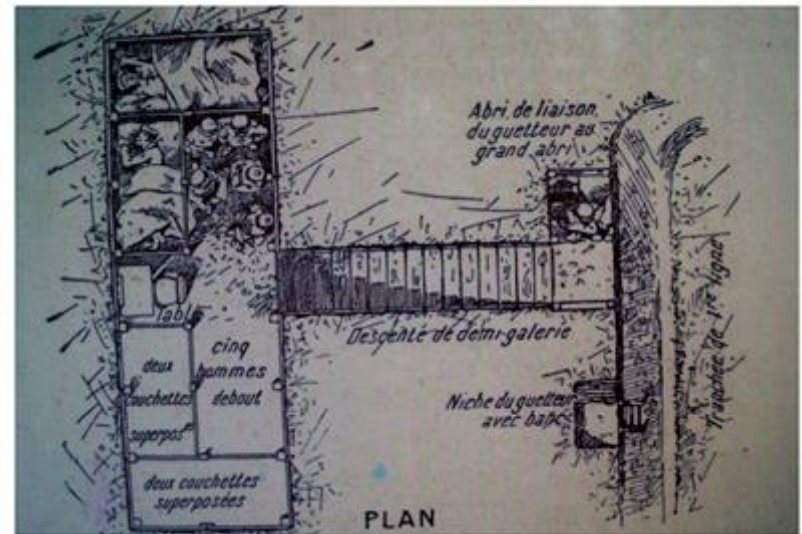


Comment s'appelle cet objet ? A quoi pouvait-il servir ?



Comment s'appellent ces objets ? A quoi pouvaient-ils servir ?



Que font ces soldats dans cette tranchée ? Quelle arme utilisent-ils ?

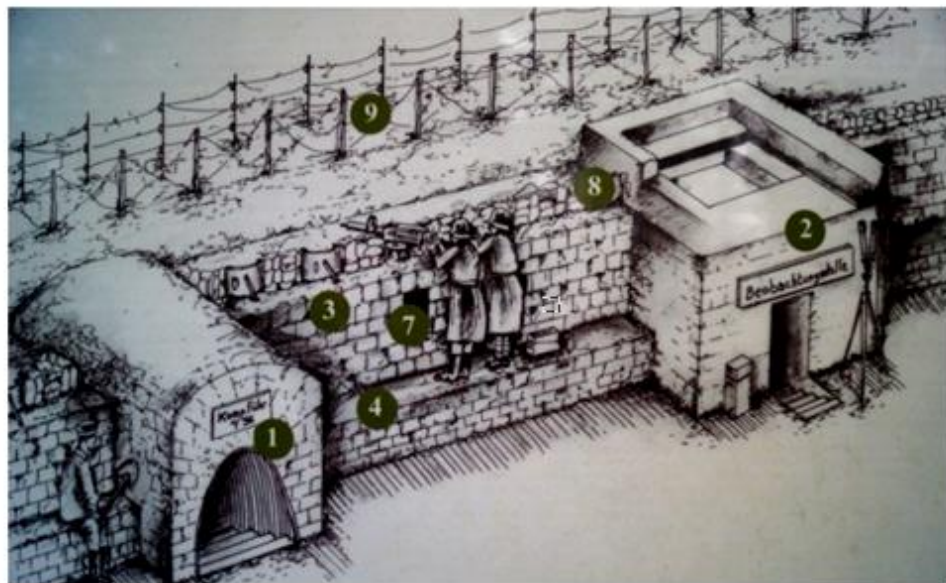
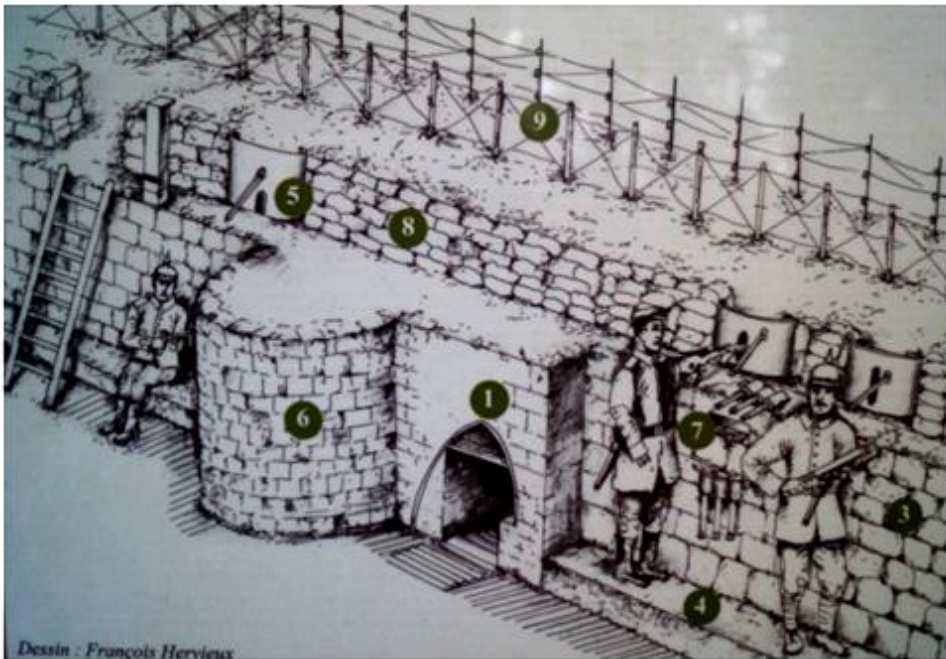


Que font les soldats sur la dernière photo ?

Observe le plan des abris allemands :

Combien d'hommes pouvaient vivre dans cet abri ?

Pourquoi sont-ils bien protégés ?



Ecris le numéro qui correspond à chaque partie de la tranchée :


Banquette de tir : _____, Entrée d'abri : _____, Parapet : _____,

Poste d'observation : _____, Niche à munitions : _____,

Bouclier de tranchée : _____, Traverse : _____, Sacs à terre : _____,

Réseau de fil de fer : _____,

Complète le dessin avec les mots manquants :



Dessins originaux de François Hervieux. Photos d'époque collections e-Storial-JF Genet- J Huret. JC Fombaron. Documents issus des panneaux d'information sur site.